



แบบฝึกหัด 1.3

กราฟแสดงคำตอบของอสมการ

1. จงเขียนกราฟแสดงคำตอบของอสมการในแต่ละข้อต่อไปนี้

1.1 $x \geq 18$

วิธีทำ.....



1.2 $a < -3$

วิธีทำ.....



1.3 $n \leq 12$

วิธีทำ.....



1.4 $x \neq 20$

วิธีทำ.....



1.5 $18 \leq x < 24$

วิธีทำ.....

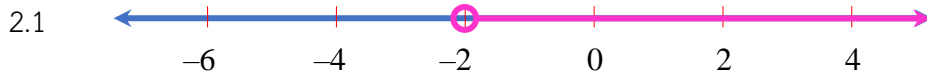




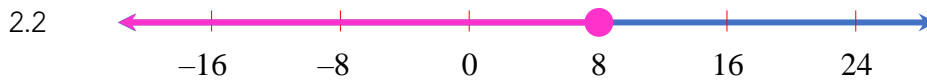
อสมการเชิงเส้นตัวแปรเดียว

คณิตศาสตร์พื้นฐาน ม.3

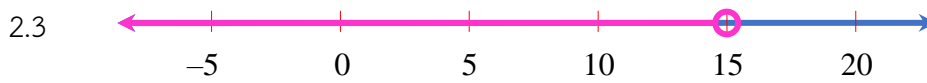
2. จงหาว่ากราฟแสดงคำตอบในแต่ละข้อต่อไปนี้แสดงจำนวนใดบ้าง



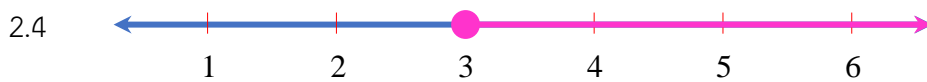
ตอบ.....



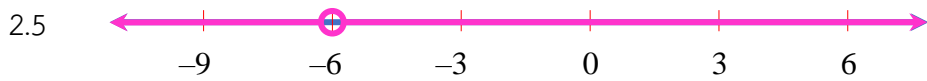
ตอบ.....



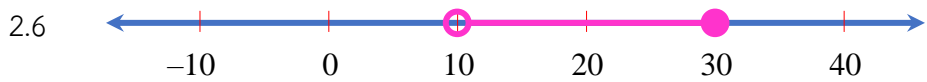
ตอบ.....



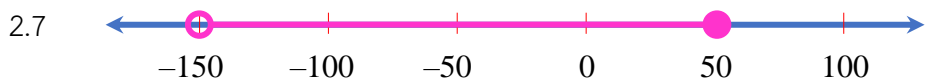
ตอบ.....



ตอบ.....



ตอบ.....



ตอบ.....



ตอบ.....

